

БАЗИ ОТ ДАННИ

1 зад. Системите за управление на бази от данни са;

- А) Компютрите, чрез които се управляват базите от данни
- Б) Програмите, чрез които се създават базите от данни и се осигурява бърз достъп за търсене и обновяване на информацията
- В) Бази от данни, съхранени на електронен носител
- Г) Нито едно от посочените

2 зад. Данните в базите от данни се организират в таблици, между които се осъществяват връзки при:

- А) йерархичния модел
- Б) релационния модел
- В) мрежовия модел
- Г) дървовидния модел

3 зад. Запис в таблица от база от данни се нарича:

- А) отделен ред от таблицата
- Б) отделна колона от таблицата
- В) съвкупност от полета от таблицата
- Г) номер на реда

4 зад. Формите представляват:

- А) извадка от наличните данни, отговарящи на определено условие
- Б) именувани редове и колони
- В) формуляри, които се използват за попълване на данни
- Г) извадка от данни предназначени за отпечатване

5 зад. Най-удобен начин за въвеждане на данни в база от данни е чрез използване на:

- А) самата таблица
- Б) форма, съдържаща някои от полетата на таблицата
- В) форма, съдържаща всички полета на таблицата
- Г) форма за всяко поле

6 зад. В едно поле на таблица, в база от данни, данните

- А) могат да бъдат от различен тип
- Б) трябва да са от един и същи тип
- В) са от един и същи или различен тип, в зависимост от структурата на таблицата
- Г) са от един и същи или различен тип, в зависимост от връзките в таблицата

КОМПЮТЪРНО ПРЕДСТАВЯНЕ НА ИНФОРМАЦИЯ ПРЕД ПУБЛИКА

7 зад. Смисълът на едно представяне се състои в:

- А) изява на личността, която го води
- Б) събиране на максимално голяма аудитория
- В) нито едно от посочените
- Г) задоволяване на желанието на слушателите да научат нещо ново по темата

8 зад. Коя от следните позиции е подходяща при изнасяне на презентация

- А) прав с лице обърнато към аудиторията
- Б) седнал с лице към аудиторията
- В) позицията е без значение
- Г) прав с лице към екрана

9 зад. Структура на слайда:

- А) не може да се променя
- Б) може да се променя, като се разместват елементите и се променя размерът им
- В) може да се променя като се добавят и премахват елементи
- Г) може да се променя като се разместват елементи, променя се размерът им като се добавят и премахват елементи

10 зад. По време на презентацията водещият:

- А) може от време на време да поглежда през прозореца
- Б) трябва да поддържа зрителен контакт с аудиторията
- В) може да задържа погледа си за повече от 3 секунди върху конкретно лице
- Г) е добре да гледа към стената или пода, за да не фокусира погледа си към определени хора

11 зад. Оснивния елемент, от който се изгражда презентацията при презентационните системи, е:

- А) текст
- Б) анимация и видео
- В) графично изображение
- Г) слайд

12 зад. Звукът в един слайд може да се използва

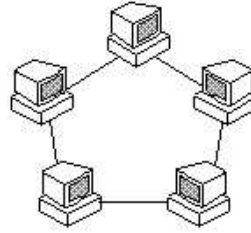
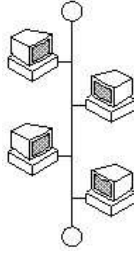
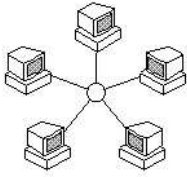
- А) самостоятелно
- Б) като музикален фон
- В) по трите изброени начина
- Г) като ефект

13 зад. Какво е разширението на файл написан на Power Point

.....

КОМПЮТЪРНИ МКЕЖИ

14 зад Под всяка от схемите на топология на ЛМ определете наименованието и:



15 зад Разкажете за ДВЕ топологии на ЛМ по ваш избор- начин на свързване на компютрите, предимства и недостатъци на схемата.

.....

.....

.....

16 зад IP адрес е 4 байтово число, всяко от което е от 0 до 255 и се разделят с точка между тях.

А) ДА;

Б) НЕ;

РАЗРАБОТВАНЕ НА ПРОЕКТ. НАВИГАЦИЯ

17 зад. За да отворите интернет страница трябва да зададете адреса в адресното поле и да натиснете клавиша ESC

А) ДА;

Б) НЕ;

18 зад. Търсещата машина е хардуерно устройство:

А) ДА;

Б) НЕ;

19 зад Посочете верните твърдения:

А) чрез интернет могат да се изпращат електронни писма; Б) чрез интернет можем да прием кафе;

В) в интернет можем да следим новините;

Г) чрез интернет можем да се запознаем с приятели;

20 зад. Иконата на програмата Internet Explorer е:



21 зад. Коя от посочените програми НЕ е включена в интегрирания пакет на Microsoft Office:

А) Microsoft Word;

Б) Microsoft Excel;

В) Microsoft Power Point

Г) Microsoft visual Basic

22 зад Напишете три адреса на уеб страници:

.....

23 зад Напишете три адреса на е-поща

.....

24 зад Избройте етични и граматични правила, които трябва да се спазват при изграждане на документ

.....

.....

.....

.....